




I'm not robot



Continue

Nombre _____ Fecha _____

Para ser astronauta


¿Te gustaría ser astronauta? Pues estos son los requisitos necesarios para llegar a serlo.

Primero, debes realizar estudios técnicos o científicos. Hay astronautas pilotos, químicos, biólogos.

Después, has de superar pruebas médicas y psicológicas.

A continuación, tendrás que entrenarte en un simulador aéreo con el traje de astronauta. En este aparato flotarás en el aire. ¡Y no puedes marearte!

Por último, deberás hacer prácticas de vuelo durante más de un año. A partir de entonces... ¡Ya!




1. Marca con una X los requisitos necesarios para ser astronauta. Después, cópialos.

- Superar unas pruebas médicas.
- Alimentarse de pescado y vegetales.
- Vivir encerrado en una habitación durante un año.
- Hacer prácticas de vuelo durante más de un año.
- Sufrir mareos de vez en cuando.
- Realizar estudios científicos o técnicos.
- Jugar a baloncesto.


Solucionario
La Guía Santillana 6 Contestada

 Actividades para aprender, convivir y ser

Matemáticas **2** PRIMARIA

 SABER HACER contigo

Prueba de Matemática (Multiplicaciones) Terceros Años

Nombre: _____ Fecha: _____


Puntaje real: **37 puntos** Puntaje obtenido: _____ Nota: _____

Puntaje máximo: **32 puntos**

Aprendizaje Esperado: Demostrar que comprenden las tablas de multiplicar del 2 al 5 de manera progresiva.


1.- Dibuja y completa.

2 floreros con 6 flores cada uno.




___ floreros.
___ flores en cada florero.
___ flores en total.

3 bolsas con 8 bombones cada una.




___ bolsas.
___ bombones en cada bolsa.
___ bombones en total.

4 peceras con 5 peces cada una.



___ peceras.
___ peces en cada pecera.
___ peces en total.

5 canastos con 3 peras cada uno.



___ canastos.
___ peras en cada canasto.
___ peras en total.

2.- Completa sobre la línea con la respuesta correcta (4 puntos).

a) _____ es sumar varias veces.

b) Los números que se multiplican se llaman _____.

c) Si multiplicas un número por cero el resultado es: _____.

d) Si multiplicas un número por uno, el resultado siempre es: _____.

